

МИНОБРНАУКИ РОССИИ
Федеральное государственное бюджетное образовательное учреждение
высшего образования
«САРАТОВСКИЙ НАЦИОНАЛЬНЫЙ ИССЛЕДОВАТЕЛЬСКИЙ
ГОСУДАРСТВЕННЫЙ УНИВЕРСИТЕТ ИМЕНИ
Н.Г. ЧЕРНЫШЕВСКОГО»
Балашовский институт (филиал)

УТВЕРЖДАЮ:
Директор БИ ФГБОУ
доцент А.В. Шатилова



«30» 2021 г.

Рабочая программа дисциплины

**Методика подготовки к итоговой аттестации по математике в
средней школе**

Направление подготовки бакалавриата

44.03.05 Педагогическое образование (с двумя профилями подготовки)

Профили подготовки бакалавриата

Математика и физика

Квалификация (степень) выпускника

Бакалавр

Форма обучения

Очная

Балашов

2021

Статус	Фамилия, имя, отчество	Подпись	Дата
Преподаватель-разработчик	Сухорукова Елена Владимировна		30.08.2021
Председатель НМК	Мазалова Марина Алексеевна		30.08.2021
Заведующий кафедрой	Сухорукова Елена Владимировна		30.08.2021
Начальник УМО	Бурлак Наталия Владимировна		30.08.2021

СОДЕРЖАНИЕ

1. ЦЕЛЬ ОСВОЕНИЯ ДИСЦИПЛИНЫ.....	3
2. МЕСТО ДИСЦИПЛИНЫ В СТРУКТУРЕ ОБРАЗОВАТЕЛЬНОЙ ПРОГРАММЫ.....	3
3. РЕЗУЛЬТАТЫ ОБУЧЕНИЯ ПО ДИСЦИПЛИНЕ	4
4. СТРУКТУРА И СОДЕРЖАНИЕ ДИСЦИПЛИНЫ.....	5
5. ОБРАЗОВАТЕЛЬНЫЕ ТЕХНОЛОГИИ, ПРИМЕНЯЕМЫЕ ПРИ ОСВОЕНИИ ДИСЦИПЛИНЫ	6
6. УЧЕБНО-МЕТОДИЧЕСКОЕ ОБЕСПЕЧЕНИЕ САМОСТОЯТЕЛЬНОЙ РАБОТЫ СТУДЕНТОВ. ОЦЕНОЧНЫЕ СРЕДСТВА ДЛЯ ТЕКУЩЕГО КОНТРОЛЯ УСПЕВАЕМОСТИ, ПРОМЕЖУТОЧНОЙ АТТЕСТАЦИИ ПО ИТОГАМ ОСВОЕНИЯ ДИСЦИПЛИНЫ.....	7
7. ДАННЫЕ ДЛЯ УЧЕТА УСПЕВАЕМОСТИ СТУДЕНТОВ В БАРС....	18
8. УЧЕБНО-МЕТОДИЧЕСКОЕ И ИНФОРМАЦИОННОЕ ОБЕСПЕЧЕНИЕ ДИСЦИПЛИНЫ.....	19
9. МАТЕРИАЛЬНО-ТЕХНИЧЕСКОЕ ОБЕСПЕЧЕНИЕ ДИСЦИПЛИНЫ.....	21

1. Цель освоения дисциплины

Цель освоения дисциплины – формирование у будущего учителя математики профессионально значимых систематизированных знаний и умений, методической компетентности в сфере обучения математике.

2. Место дисциплины в структуре образовательной программы

Дисциплина входит в Блок 1 «Дисциплины (модули)», относится к части учебного плана, формируемой участниками образовательных отношений, является дисциплиной по выбору обучающихся.

Изучение данной дисциплины опирается на знания, умения, навыки и опыт, полученные при изучении дисциплин «Элементарная математика», «Методика обучения математике».

Освоение данной дисциплины является необходимым для последующего прохождения преддипломной практики и написания бакалаврской работы.

3. Результаты обучения по дисциплине

Код и наименование компетенции	Код и наименование индикатора (индикаторов) достижения компетенции	Результаты обучения
<p>ПК-1.Способен осуществлять педагогическую деятельность по профильным предметам (дисциплинам, модулям) в рамках основных образовательных программ общего образования, по программам дополнительного образования детей и взрослых.</p>	<p>2.1_Б.ПК-1. Готов к реализации программ дополнительного образования детей и взрослых в соответствии с профилем подготовки.</p>	<p>У_2.1_Б.ПК-1. Студент способен соотнести содержание изученных теоретических дисциплин с содержанием и проблемами школьного математического и информатического образования</p>
	<p>3.1_Б.ПК-1. Владеет системой научных знаний в соответствующей предметной области (по профилю подготовки).</p>	<p>В_3.1_Б.ПК-1. Студент владеет основами алгоритмического мышления и способен решать задачи, соответствующие современным образовательным стандартам, с использованием стандартных алгоритмов и приёмов</p>

4. Структура и содержание дисциплины

Общая трудоемкость дисциплины составляет 2 зачетные единицы, 72 часа.

№ п/п	Раздел дисциплины и темы занятий	Семестр	Неделя семестра	Виды учебной работы, включая самостоятельную работу студентов и трудоемкость (в часах)						Формы текущего контроля успеваемости (по темам и разделам) Формы промежуточной аттестации (по семестрам)
				Лекции	Практические занятия		Лабораторные занятия		КСР	
					общая трудоёмкость	Из них – практическая подготовка	общая трудоёмкость	Из них – практическая подготовка		
1	2	3	4	5	6	7	8	9	10	11
1	Профильное обучение математике	10		2	10	10	0	0	18	Блиц-опрос Практические задания
2	Технологии организации и подготовки школьников к ЕГЭ	10		4	20	10	0	0	18	Блиц-опрос Практические задания
	Всего			6	30	20	0	0	36	
	Промежуточная аттестация									Зачет в 10 семестре
	Общая трудоемкость дисциплины	2 з.е., 72 часа								

Содержание дисциплины

Раздел 1. Профильное обучение математике

Понятие и сущность профильной дифференциации обучения. Федеральный закон «Об образовании в Российской Федерации» о профильном обучении. Требования ФГОС ООО к предметным результатам освоения курса математики (углубленный уровень).

Предпрофильная подготовка. Общие вопросы методики профильного обучения математике.

Раздел 2. Технологии организации и подготовки школьников к ЕГЭ

Основные цели введения ЕГЭ. Задачи, решаемые на ЕГЭ. Нормативно-правовая база экзаменационной работы. Структура контрольно-измерительных материалов. Оценка итоговых контрольных работ

5. Образовательные технологии, применяемые при освоении дисциплины

Основные образовательные технологии, применяемые при изучении дисциплины

- Технология развития критического мышления и проблемного обучения (реализуется при решении учебных задач проблемного характера).
- Технология контекстного обучения – обучение в контексте профессии (реализуется в формате практической подготовки).
- Технология интерактивного обучения (реализуется в форме учебных заданий, предполагающих взаимодействие обучающихся, использование активных форм обратной связи).

Адаптивные образовательные технологии, применяемые при изучении дисциплины

При обучении лиц с ограниченными возможностями здоровья предполагается использование при организации образовательной деятельности адаптивных образовательных технологий в соответствии с условиями, изложенными в ОПОП (раздел «Особенности организации образовательного процесса по образовательным программам для инвалидов и лиц с ограниченными возможностями здоровья»), в частности: предоставление специальных учебных пособий и дидактических материалов, специальных технических средств обучения коллективного и индивидуального пользования, предоставление услуг ассистента (помощника), оказывающего обучающимся необходимую техническую помощь, и т. п. – в соответствии с индивидуальными особенностями обучающихся.

При наличии среди обучающихся лиц с ограниченными возможностями здоровья в раздел «Образовательные технологии, применяемые при освоении дисциплины» рабочей программы вносятся необходимые уточнения в соответствии с «Положением об организации образовательного процесса, психолого-педагогического сопровождения, социализации инвалидов и лиц с ограниченными возможностями здоровья, обучающихся в БИ СГУ» (П 8.70.02.05–2016).

Информационные технологии, применяемые при изучении дисциплины

- Использование информационных ресурсов, доступных в информационно-телекоммуникационной сети Интернет (см. перечень ресурсов в п. 8 настоящей программы).
- Составление и редактирование текстов при помощи текстовых редакторов.
- Представление информации с использованием средств инфографики.
- Создание электронных документов (компьютерных презентаций, видеофайлов и т. п.).
- Проверка файла работы на заимствования с помощью ресурса «Антиплагиат».

6. Учебно-методическое обеспечение самостоятельной работы студентов.

Оценочные средства для текущего контроля успеваемости, промежуточной аттестации по итогам освоения дисциплины

6.1. Самостоятельная работа студентов по дисциплине

6.1.1. Подготовка к практическим занятиям

1. Нормативно-правовые основы проведения ЕГЭ по математике.
2. Задачи ЕГЭ базового уровня. Методы решения и методика подготовки.
3. Задачи ЕГЭ профильного уровня. Часть первая. Методы решения и методика подготовки
4. Задачи ЕГЭ профильного уровня. Часть вторая. Методы решения и методика подготовки.
5. Задачи ЕГЭ профильного уровня. Уравнения и неравенства.
6. Задачи ЕГЭ профильного уровня. Задачи по геометрии
7. Задачи ЕГЭ профильного уровня. Задачи с экономическим содержанием.
8. Задачи ЕГЭ профильного уровня. Задачи с параметром.
9. Контрольная работа.

Рейтинговый контроль по практическим работам производится при выполнении практических заданий во время практических занятий.

Критерии оценивания

Баллы	Критерии оценивания
5	Практическая работа выполнена в полном соответствии с требованиями, студент представил отчет без погрешностей и замечаний, на все вопросы при защите практической работы дал правильные ответы.
4	Практическая работа выполнена в полном соответствии с требованиями, студент представил отчет с небольшими погрешностями в оформлении и/или реализации требований к составу описаний, на защите затруднялся при ответах на некоторые вопросы, нуждался в уточняющих вопросах и подсказках со стороны преподавателя
3	Практическая работа выполнена в соответствии с требованиями, студент представил отчет с существенными погрешностями в оформлении, не способен правильно интерпретировать полученные результаты, на защите затруднялся и/или не ответил на большинство вопросов, нуждался в уточняющих вопросах и подсказках со стороны преподавателя
1	Студент самостоятельно выполнил практическую работу, не способен пояснить содержание отчета, не ответил ни на один контрольный вопрос на защите

6.1.2. Выполнение письменной контрольной работы по материалу дисциплины

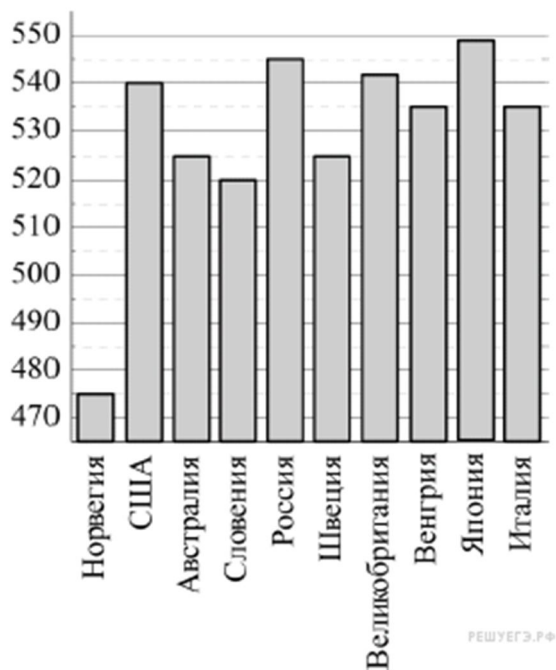
Контрольная работа № 1 ДЕМОНСТРАЦИОННЫЙ ВАРИАНТ

1. Задание 1

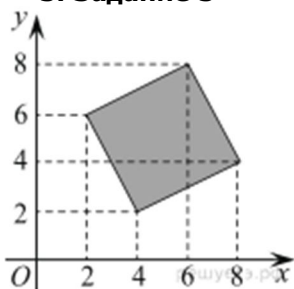
Павел Иванович купил американский автомобиль, на спидометре которого скорость измеряется в милях в час. Американская миля равна 1609 м. Какова скорость автомобиля в километрах в час, если спидометр показывает 50 миль в час? Ответ округлите до целого числа.

2. Задание 2

На диаграмме показан средний балл участников из 10 стран в тестировании учащихся 8-го класса по естествознанию в 2007 году (по 1000-балльной шкале). Среди указанных стран первое место принадлежит Японии. Определите, какое место занимает Словения.



3. Задание 3



Найдите площадь четырехугольника, вершины которого имеют координаты $(4; 2)$, $(8; 4)$, $(6; 8)$, $(2; 6)$.

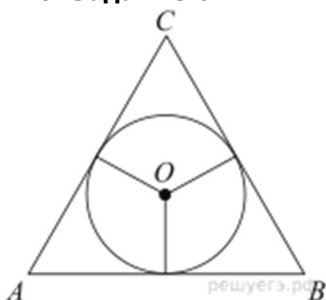
4. Задание 4

Вероятность того, что в случайный момент времени температура тела здорового человека окажется ниже чем $36,8^\circ\text{C}$, равна $0,81$. Найдите вероятность того, что в случайный момент времени у здорового человека температура окажется $36,8^\circ\text{C}$ или выше.

5. Задание 5

Решите уравнение: $\sqrt[3]{x+2} = -2$.

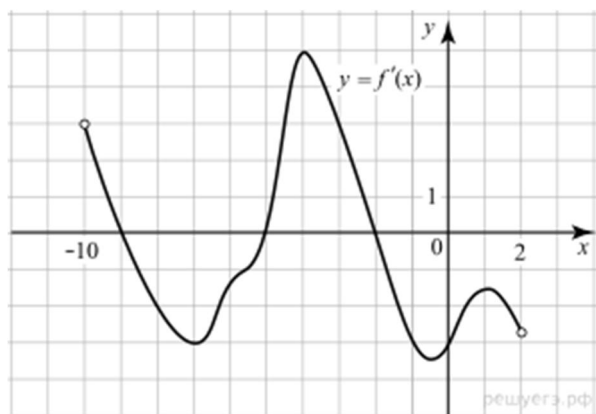
6. Задание 6



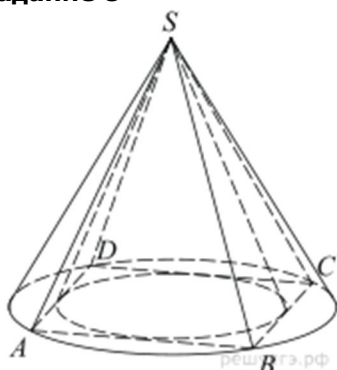
Боковые стороны равнобедренного треугольника равны 5, основание равно 6. Найдите радиус вписанной окружности.

7. Задание 7

На рисунке изображен график производной функции $f(x)$, определенной на интервале $(-10; 2)$. Найдите количество точек, в которых касательная к графику функции $f(x)$ параллельна прямой $y = -2x - 11$ или совпадает с ней.



8. Задание 8



Во сколько раз объем конуса, описанного около правильной четырехугольной пирамиды, больше объема конуса, вписанного в эту пирамиду?

9. Задание 9

Найдите $\frac{a + 9b + 16}{a + 3b + 8}$, если $\frac{a}{b} = 3$.

10. Задание 10

В розетку электросети подключены приборы, общее сопротивление которых составляет $R_1 = 90$ Ом. Параллельно с ними в розетку предполагается подключить электрообогреватель. Определите наименьшее возможное сопротивление R_2 этого электрообогревателя, если известно, что при параллельном соединении двух проводников с сопротивлениями R_1 Ом и R_2 Ом их об-

щее сопротивление дается формулой $R_{\text{общ}} = \frac{R_1 R_2}{R_1 + R_2}$ (Ом), а для нормального функционирования электросети общее сопротивление в ней должно быть не меньше 9 Ом. Ответ выразите в омах.

11. Задание 11

Два пешехода отправляются одновременно в одном направлении из одного и того же места на прогулку по аллее парка. Скорость первого на 1,5 км/ч больше скорости второго. Через сколько минут расстояние между пешеходами станет равным 300 метрам?

12. Задание 12

Найдите точку минимума функции $y = (x + 16)e^{x-16}$.

13. Задание 13

а) Решите уравнение $2 \cos 2x + 4\sqrt{3} \cos x - 7 = 0$.

б) Найдите все корни этого уравнения, принадлежащие промежутку $\left[\frac{5\pi}{2}; 4\pi \right]$.

14. Задание 14

В треугольной пирамиде $ABCD$ двугранные углы при рёбрах AD и BC равны. $AB = BD = DC = AC = 5$.

а) Докажите, что $AD = BC$.

б) Найдите объем пирамиды, если двугранные углы при AD и BC равны 60° .

15. Задание 15

$$\frac{27^{x+\frac{1}{3}} - 10 \cdot 9^x + 10 \cdot 3^x - 5}{9^{x+\frac{1}{2}} - 10 \cdot 3^x + 3} \leq 3^x + \frac{1}{3^x - 2} + \frac{1}{3^{x+1} - 1}.$$

Решите неравенство

16. Задание 16

В выпуклом четырёхугольнике $ABCD$ известны стороны и диагональ: $AB = 3$, $BC = CD = 5$, $AD = 8$, $AC = 7$.

а) Докажите, что вокруг этого четырёхугольника можно описать окружность.

б) Найдите BD .**17. Задание 17**

15-го января планируется взять кредит в банке на шесть месяцев в размере 1 млн рублей. Условия его возврата таковы:

— 1-го числа каждого месяца долг увеличивается на r процентов по сравнению с концом предыдущего месяца, где r — целое число;

— со 2-го по 14-е число каждого месяца необходимо выплатить часть долга;

— 15-го числа каждого месяца долг должен составлять некоторую сумму в соответствии со следующей таблицей.

Дата	15.01	15.02	15.03	15.04	15.05	15.06	15.07
Долг (в млн рублей)	1	0,6	0,4	0,3	0,2	0,1	0

Найдите наибольшее значение r , при котором общая сумма выплат будет меньше 1,2 млн рублей.

18. Задание 18Найдите все значения a , при которых уравнение

$$(\log_8(x+a) - \log_8(x-a))^2 - 12a(\log_8(x+a) - \log_8(x-a)) + 35a^2 - 6a - 9 = 0$$

имеет ровно два решения.

19. Задание 19

а) Чему равно число способов записать число 1292 в виде $1292 = a_3 \cdot 10^3 + a_2 \cdot 10^2 + a_1 \cdot 10 + a_0$, где числа a_i — целые, $0 \leq a_i \leq 99$, $i = 0; 1; 2; 3$?

б) Существуют ли 10 различных чисел N таких, что их можно представить в виде $N = a_3 \cdot 10^3 + a_2 \cdot 10^2 + a_1 \cdot 10 + a_0$, где числа a_i — целые, $0 \leq a_i \leq 99$, $i = 0; 1; 2; 3$ ровно 130 способами?

в) Сколько существует чисел N таких, что их можно представить в виде $N = a_3 \cdot 10^3 + a_2 \cdot 10^2 + a_1 \cdot 10 + a_0$, где числа a_i — целые, $0 \leq a_i \leq 99$, $i = 0; 1; 2; 3$ ровно 130 способами?

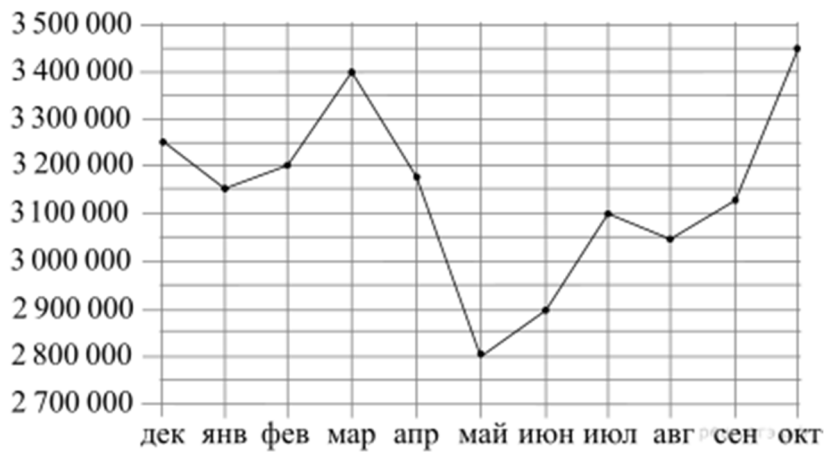
Контрольная работа проводится в запланированное время и предназначена для оценки знаний, умений и навыков, приобретенных в процессе теоретических и практических занятий курса. Оценивается в 20 баллов.

6.1.3. Задачи для самостоятельного решения**1.**

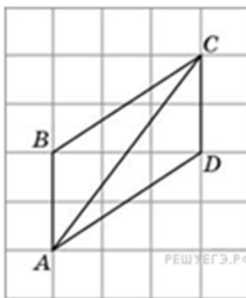
Павел Иванович купил американский автомобиль, спидометр которого показывает скорость в милях в час. Какова скорость автомобиля в километрах в час, если спидометр показывает 65 миль в час? Считайте, что 1 миля равна 1609 м. Ответ округлите до целого числа.

2.

На рисунке точками показана месячная аудитория поискового сайта Ya.ru во все месяцы с декабря 2008 года по октябрь 2009 года. По горизонтали указываются месяцы, по вертикали — количество человек, посетивших сайт хотя бы раз за данный месяц. Для наглядности точки на рисунке соединены линией. Определите по рисунку наименьшую месячную аудиторию сайта Ya.ru в период с декабря 2008 года по апрель 2009 года.



3.



Найдите диагональ AC параллелограмма $ABCD$, если стороны квадратных клеток равны 1.

4.

В случайном эксперименте симметричную монету бросают дважды. Найдите вероятность того, что наступит исход ОР (в первый раз выпадает орёл, во второй — решка).

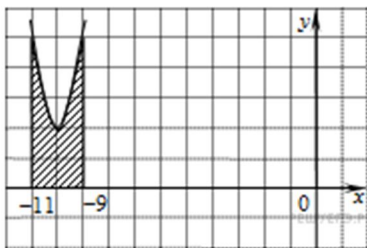
5.

Решите уравнение $x^2 + 9 = (x + 9)^2$.

6.

В треугольнике ABC угол C равен 90° , CH — высота, $AH = 27$, $\operatorname{tg} A = \frac{2}{3}$. Найдите BH .

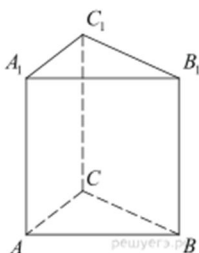
7.



На рисунке изображён график функции $y = f(x)$. Функ-

ция $F(x) = x^3 + 30x^2 + 302x - \frac{15}{8}$ — одна из первообразных функции $y = f(x)$. Найдите площадь закрашенной фигуры.

8.



Найдите объем многогранника, вершинами которого являются точки A, B, C, A_1, C_1 правильной треугольной призмы $ABCA_1B_1C_1$, площадь основания которой равна 3, а боковое ребро равно 2.

9.

Найдите $24 \cos 2\alpha$, если $\sin \alpha = -0,2$.

10.

Ёмкость высоковольтного конденсатора в телевизоре $C = 2 \cdot 10^{-6}$ Ф. Параллельно с конденсатором подключен резистор с сопротивлением $R = 5 \cdot 10^6$ Ом. Во время работы телевизора напряжение на конденсаторе $U_0 = 16$ кВ. После выключения телевизора напряжение на конденсаторе убывает до значения U (кВ) за время, определяемое выражением

$t = \alpha RC \log_2 \frac{U_0}{U}$ (с), где $\alpha = 0,7$ – постоянная. Определите напряжение на конденсаторе, если после выключения телевизора прошло 21 с. Ответ дайте в киловольтах.

11.

Теплоход проходит по течению реки до пункта назначения 255 км и после стоянки возвращается в пункт отправления. Найдите скорость теплохода в неподвижной воде, если скорость течения равна 1 км/ч, стоянка длится 2 часа, а в пункт отправления теплоход возвращается через 34 часа после отплытия из него. Ответ дайте в км/ч.

12.

Найдите точку минимума функции $y = \sqrt{x^2 - 6x + 11}$.

13.

$$1 + \operatorname{ctg} 2x = \frac{1}{\cos \left(\frac{3\pi}{2} - 2x \right)}.$$

а) Решите уравнение

б) Укажите корни этого уравнения, принадлежащие промежутку $\left[-2\pi; -\frac{\pi}{2} \right]$.

14.

В цилиндре образующая перпендикулярна плоскости основания. На окружности одного из оснований цилиндра выбраны точки A, B и C , а на окружности другого основания — точка C_1 , причём CC_1 — образующая цилиндра, а AC — диаметр основания. Известно, что $\angle ACB = 30^\circ$, $AB = \sqrt{2}$, $CC_1 = 2$.

а) Докажите, что угол между прямыми AC_1 и BC равен 45° .

б) Найдите объём цилиндра.

15.

$$\frac{320 - 4^{-x-1}}{128 - 2^{-x}} \geq 2,5.$$

Решите неравенство:

16.

Высоты BB_1 и CC_1 остроугольного треугольника ABC пересекаются в точке H .

а) Докажите, что $\angle AHB_1 = \angle ACB$.

б) Найдите BC , если $AH = 4$ и $\angle BAC = 60^\circ$.

17.

Миша и Маша положили в один и тот же банк одинаковые суммы под 10% годовых. Через год сразу после начисления процентов Миша снял со своего счета 5000 рублей, а еще через год снова внес 5000 рублей. Маша, наоборот, через год доложила на свой счет 5000 рублей, а еще через год сразу после начисления процентов сняла со счета 5000 рублей. Кто через три года со времени первоначального вложения получит большую сумму и на сколько рублей?

18.

Найдите все значения a , при каждом из которых система уравнений

$$\begin{cases} \frac{xy^2 - 2xy - 4y + 8}{\sqrt{x+4}} = 0, \\ y = ax \end{cases}$$

имеет ровно два различных решения.

19.

На доске написали несколько не обязательно различных двузначных натуральных чисел без нулей в десятичной записи. Сумма этих чисел оказалась равной 363. Затем в каждом числе поменяли местами первую и вторую цифры (например, число 17 заменили на число 71).

а) Приведите пример исходных чисел, для которых сумма получившихся чисел ровно в 4 раза больше, чем сумма исходных чисел.

б) Могла ли сумма получившихся чисел быть ровно в 2 раза больше, чем сумма исходных чисел?

в) Найдите наибольшее возможное значение суммы получившихся чисел.

6.2. Оценочные средства для текущего контроля успеваемости по дисциплине

В соответствии с принятой в СГУ имени Н. Г. Чернышевского балльно-рейтинговой системой учета достижений студента (БАРС) баллы, полученные в ходе текущего контроля, распределяются по группам:

- практические занятия;
- самостоятельная работа;

1. Посещение практических занятий, выполнение программы занятий, контрольных работ – от 0 до 40 баллов (в соответствии с критериями оценивания).

Планы практических занятий см. в разделе 6.1.1.

Демонстрационные варианты контрольных работ см. в разделе 6.1.2.

2. Самостоятельная работа:

- выполнение самостоятельных работ – до 30 баллов

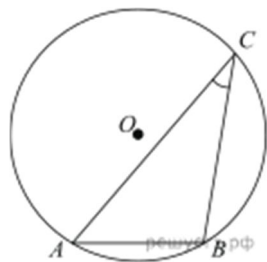
Самостоятельная подготовка к практическим работам. Задачи для самостоятельного решения см. в разделе 6.1.3

6.3. Оценочные средства

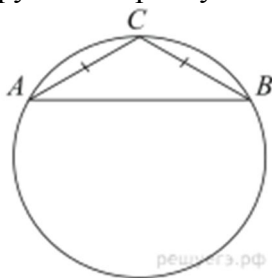
для промежуточной аттестации по дисциплине

Промежуточная аттестация – зачет – проводится в форме решения практических задач. Подготовка студента к прохождению промежуточной аттестации осуществляется в период практических занятий, а также во внеаудиторные часы в рамках самостоятельной работы. Во время самостоятельной подготовки студент пользуется основной и дополнительной литературой по дисциплине (см. перечень литературы в рабочей программе дисциплины).

Задачи к зачету



1. Найдите хорду, на которую опирается угол 30° , вписанный в окружность радиуса 25.

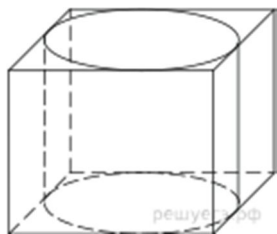


2. Боковая сторона равнобедренного треугольника равна 7, угол при вершине, противолежащей основанию, равен 120° . Найдите диаметр описанной окружности этого треугольника.

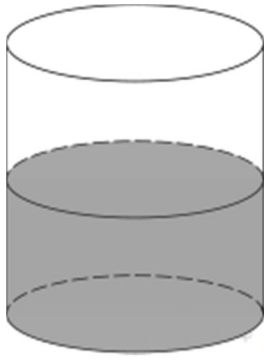
3. Материальная точка движется прямолинейно по закону

$x(t) = -\frac{1}{3}t^3 + 8t^2 - 9t + 28$, где x — расстояние от точки отсчёта (в метрах), t — время движения (в секундах). Найдите её скорость (в метрах в секунду) в момент времени $t = 2$ с.

4. Прямая $y = -3x - 6$ параллельна касательной к графику функции $y = x^2 + 5x - 4$. Найдите абсциссу точки касания.



5. Прямоугольный параллелепипед описан около цилиндра, радиус основания и высота которого равны 18. Найдите объем параллелепипеда.



6. В цилиндрическом сосуде уровень жидкости достигает 16 см. На какой высоте будет находиться уровень жидкости, если ее перелить во второй сосуд, диаметр которого в 2 раза больше первого? Ответ выразите в см.

$$\frac{\sqrt{3,5} \cdot \sqrt{1,5}}{\sqrt{0,21}}$$

7. Найдите значение выражения

8. Найдите значение выражения $4^{3x+2} : 64^x : x$ при $x = \frac{1}{7}$.

9. Водолазный колокол, содержащий в начальный момент времени $\nu = 3$ моля воздуха объемом $V_1 = 8$ л, медленно опускают на дно водоема. При этом происходит изотермическое сжатие воздуха до конечного объема V_2 . Работа, совершаемая водой при

$$A = \alpha \nu T \log_2 \frac{V_1}{V_2} \text{ (Дж)},$$

где $\alpha = 5,75$ – постоянная, а $T = 300$ К – температура воздуха. Какой объем V_2 (в литрах) станет занимать воздух, если при сжатии газа была совершена работа в 10 350 Дж?

10. Амплитуда колебаний маятника зависит от частоты вынуждающей силы, определя-

емой по формуле $A(\omega) = \frac{A_0 \omega_p^2}{|\omega_p^2 - \omega^2|}$, где ω — частота вынуждающей силы (в c^{-1}), A_0 — постоянный параметр, $\omega_p = 300c^{-1}$ — резонансная частота. Найдите максимальную частоту ω , меньшую резонансной, для которой амплитуда колебаний превосходит величину A_0 не более чем на 80%. Ответ выразите в c^{-1} .

11. Грузовик перевозит партию щебня массой 210 тонн, ежедневно увеличивая норму перевозки на одно и то же число тонн. Известно, что за первый день было перевезено 2 тонны щебня. Определите, сколько тонн щебня было перевезено за девятый день, если вся работа была выполнена за 14 дней.

12. Теплоход проходит по течению реки до пункта назначения 255 км и после стоянки возвращается в пункт отправления. Найдите скорость теплохода в неподвижной воде, если скорость течения равна 1 км/ч, стоянка длится 2 часа, а в пункт отправления теплоход возвращается через 34 часа после отплытия из него. Ответ дайте в км/ч.

13. Найдите наибольшее значение функции $x^5 - 5x^3 - 20x$ на отрезке $[-9; 1]$.

14. Найдите точку минимума функции $y = 1,5x^2 - 45x + 162 \ln x - 9$.

$$\frac{2\sin^2 x + 2\sin x \cos 2x - 1}{\sqrt{\cos x}} = 0.$$

15. Решите уравнение

$$\left(\sin x - \frac{\sqrt{3}}{2} \right) \cdot \sqrt{3x^2 - 7x + 4} = 0.$$

16. Решите уравнение

17. На рёбрах CD и BB_1 куба $ABCD A_1 B_1 C_1 D_1$ с ребром 12 отмечены точки P и Q соответственно, причём $DP = 4$, а $B_1 Q = 3$. Плоскость APQ пересекает ребро CC_1 в точке M .

а) Докажите, что точка M является серединой ребра CC_1 .

б) Найдите расстояние от точки C до плоскости APQ .

18. Дана четырёхугольная пирамида $SABCD$ с прямоугольником $ABCD$ в основании.

Сторона AB равна $3\sqrt{2}$, а BC равна 6. Вершина пирамиды проектируется в точку пересечения диагоналей прямоугольника. Из вершин A и C на ребро SB опущены перпендикуляры AP и CQ .

а) Докажите, что точка P является серединой отрезка BQ .

б) Найдите угол между плоскостями SBA и SBC , если ребро SD равно 9.

19. Решите неравенство: $20^x - 64 \cdot 5^x - 4^x + 64 \leq 0$.

20. Решите неравенство: $(x - 1) \log_{x+3}(x + 2) \cdot \log_3(x + 3)^2 \leq 0$.

21. Семья Ивановых ежемесячно вносит плату за коммунальные услуги, телефон и электричество. Если бы коммунальные услуги подорожали на 50%, то общая сумма платежа увеличилась бы на 35%. Если бы электричество подорожало на 50%, то общая сумма платежа увеличилась бы на 10%. Какой процент от общей суммы платежа приходится на телефон?

22. Пенсионный фонд владеет акциями, цена которых к концу года t становится равной t^2 тыс. руб. (т. е. к концу первого года они стоят 1 тыс. руб., к концу второго — 4 тыс. руб. и т. д.), в течение 20 лет. В конце любого года можно продать акции по их рыночной цене на конец года и положить вырученные деньги в банк под 25% годовых. В конце какого года нужно продать акции, чтобы прибыль была максимальной?

7. Данные для учета успеваемости студентов в БАРС

Таблица 1. Таблица максимальных баллов по видам учебной деятельности

1	2	3	4	5	6	7	8
Лекции	Лабораторные занятия	Практические занятия	Самостоятельная работа	Автоматизированное тестирование	Другие виды учебной деятельности	Промежуточная аттестация	Итого
0	0	40	30	0	0	30	100

Программа оценивания учебной деятельности студента 10 семестр

Лекции

Не предусмотрено.

Лабораторные занятия

Не предусмотрено.

Практические занятия. Всего за семестр от 0 до 40 баллов

Контроль выполнения практических заданий в течение одного семестра – от 0 до 20 баллов.

Выполнение контрольных работ в течение одного семестра – от 0 до 20 баллов.

Самостоятельная работа

Выполнение самостоятельных работ в течение одного семестра – от 0 до 30 баллов.

Автоматизированное тестирование

Не предусмотрено.

Другие виды деятельности

Не предусмотрено.

Промежуточная аттестация. Зачет.

Промежуточная аттестация проводится в виде устного собеседования. При проведении промежуточной аттестации

ответ на «отлично» оценивается от 28 до 30 баллов;

ответ на «хорошо» оценивается от 22 до 27 баллов;

ответ на «удовлетворительно» оценивается от 16 до 24 баллов;

ответ на «неудовлетворительно» оценивается от 0 до 15 баллов.

Таким образом, максимально возможная сумма баллов за все виды учебной деятельности студента за четвертый семестр по дисциплине «Методика подготовки к итоговой аттестации по математике в средней школе» составляет 100 баллов.

Таблица 2. Пересчет полученной студентом суммы баллов в зачет

51 балл и более	«зачтено»
50 баллов и меньше	«не зачтено»

8. Учебно-методическое и информационное обеспечение дисциплины

а) литература

1. Темербекова, А. А. Методика обучения математике : учебное пособие / А. А. Темербекова, И. В. Чугунова, Г. А. Байгонова. – Санкт-Петербург : Лань, 2015. – 512 с. – ISBN 978-5-8114-1701-8. – URL: <https://e.lanbook.com/reader/book/56173> (дата обращения: 22.02.2021).
2. Капитонова, Т. А. Методика и технология профильного обучения математике : учебно-методическое пособие / Т. А. Капитонова. – Саратов : Саратовский гос. ун-т им. Н. Г. Чернышевского, 2012. – 115 с. – URL: http://elibrary.sgu.ru/uch_lit/605.pdf. (дата обращения: 22.02.2021).
3. Миронова, С. В. Практикум по решению задач школьной математики: применение Web-квест технологии : учебно-методическое пособие / С. В. Миронова, С. В. Напалков. – Санкт-Петербург : Лань, 2018. – 120 с. – ISBN 978-5-8114-2657-7. – URL: <https://e.lanbook.com/reader/book/100930/> (дата обращения: 22.02.2021).
4. Петрушко, И. М. Сборник задач по алгебре, геометрии и началам анализа : учебное пособие / И. М. Петрушко, В. И. Прохоренко, В. Ф. Сафонов. – 2-е изд. – Санкт-Петербург : Лань, 2007. – 576 с. – ISBN 978-5-8114-0726-2. – URL: <https://e.lanbook.com/reader/book/311/> (дата обращения: 22.02.2021).

Зав. библиотекой  (Гаманенко О. П.)

б) программное обеспечение и Интернет-ресурсы

Программное обеспечение

1. Средства MicrosoftOffice
 - MicrosoftOfficeWord – текстовый редактор;
 - MicrosoftOfficeExcel – табличный редактор;
 - MicrosoftOfficePowerPoint – программа подготовки презентаций;
 - MicrosoftOfficePublisher – настольная издательская система;
 - MicrosoftOfficeAccess – реляционная система управления базами данных.
2. IQBoardSoftware – специально разработанное для интерактивных методов преподавания и презентаций программное обеспечение интерактивной доски.
3. ИРБИС – система автоматизации библиотек.
4. Операционная система специального назначения «ASTRALINUXSPECIAL EDITION».

Интернет-ресурсы

Издательство «Лань» [Электронный ресурс]: электронно-библиотечная система. – URL: <http://e.lanbook.com/>

Издательство «Юрайт» [Электронный ресурс]: электронно-библиотечная система. – URL: <http://biblio-online.ru>

Рукопт [Электронный ресурс]: межотраслевая электронная библиотека. – URL: <http://rucont.ru>

eLIBRARY.RU [Электронный ресурс]: научная электронная библиотека. – URL: <http://www.elibrary.ru>

ibooks.ru[Электронный ресурс]: электронно-библиотечная система. – URL: <http://ibooks.ru>

Znanium.com[Электронный ресурс]: электронно-библиотечная система. – URL: <http://znanium.com>

Решу ЕГЭ [Электронный ресурс]: Образовательный портал для подготовки к экзаменам . – URL: <https://ege.sdangia.ru/>

9. Материально-техническое обеспечение дисциплины

- Учебные аудитории, оборудованные комплектом мебели, доской.
- Комплект проекционного мультимедийного оборудования.
- Компьютерный класс с доступом к сети Интернет.
- Библиотека с информационными ресурсами на бумажных и электронных носителях.
- Офисная оргтехника.

Рабочая программа составлена в соответствии с требованиями Федерального государственного образовательного стандарта высшего образования по направлению подготовки 44.03.05 «Педагогическое образование (с двумя профилями подготовки)».

Автор – Сухорукова Е.В.

Программа одобрена на заседании кафедры математики, информатики, физики.
Протокол № 1 от «30» августа 2021 года.